

Муниципальное общеобразовательное учреждение «Средняя общеобразовательная школа «Лесколовский
центр образования»

Принято на заседании
кафедры протокол
№ _____ от _____

«Согласовано»
Заместитель директора по ШО
Пулинец А.А. _____

«Утверждено»
Директор МОУ «СОШ «ЛЦО»
Глазунова В.Г. _____

Демонстрационный вариант КИМ
для проведения промежуточной аттестации учащихся по физике
10 класс

Подготовлен учителем физики МОУ «СОШ «ЛЦО»
Бахтиной Л.П.

Кодификатор

элементов содержания для проведения промежуточной аттестации учащихся 10 класса по физике.

Кодификатор составлен на базе федерального компонента государственного стандарта основного общего образования по физике, в соответствии программы школьного курса физики.

В первом и втором столбцах таблицы указываются коды содержательных блоков, на которые разбит учебный курс. В первом столбце жирным курсивом обозначены коды разделов (крупных содержательных блоков). Во втором столбце указывается код элемента содержания, для проверки которого создаются тестовые задания.

1	МЕХАНИКА	
1.1	КИНЕМАТИКА	
	1.1.1	Механическое движение и его виды
	1.1.2	Относительность механического движения
	1.1.3	Скорость
	1.1.4	Ускорение
	1.1.5	Уравнения прямолинейного равноускоренного движения
	1.1.6	Свободное падение
1.2	ДИНАМИКА	
	1.2.1	Сила. Принцип суперпозиции сил
	1.2.2	Законы динамики: третий закон Ньютона
	1.2.3	Силы в механике: сила тяжести
	1.2.4	Силы в механике: сила упругости
	1.2.5	Силы в механике: сила трения
1.3	ЗАКОНЫ СОХРАНЕНИЯ В МЕХАНИКЕ	
	1.3.1	Кинетическая энергия
	1.3.2	Потенциальная энергия
	1.3.3	Закон сохранения механической энергии
2	МОЛЕКУЛЯРНАЯ ФИЗИКА. ТЕРМОДИНАМИКА	
2.1	МОЛЕКУЛЯРНАЯ ФИЗИКА	
	2.1.1	Уравнение Менделеева-Клапейрона
2.2	ТЕРМОДИНАМИКА	
	2.2.1	Внутренняя энергия
	2.2.2	Количество теплоты.
	2.2.3	Первый закон термодинамики
3	ЭЛЕКТРОДИНАМИКА	
3.1	ЭЛЕКТРИЧЕСКОЕ ПОЛЕ	
	3.1.1	Закон Кулона
3.2	ЗАКОНЫ ПОСТОЯННОГО ТОКА	
	3.2.1	Электрический ток. Сила тока, напряжение, электрическое сопротивление
	3.2.2	Закон Ома для полной электрической цепи
	3.2.3	Параллельное и последовательное соединение проводников

Инструкция по проверке и оцениванию выполнения учащимися заданий проверочной работы.

Часть 1

За верное выполнение каждого из заданий А1-А7 выставляется 1 балл.

За выполнение задания с выбором ответа выставляется 1 балл при условии, если отмечен только один номер верного ответа. Если отмечены два и более ответов, в том числе правильный, то ответ не засчитывается.

Часть 2

Задания В1, В2 оцениваются в 2 балла, если верно указаны все элементы ответа, в 1 балл, если правильно указаны один и более элементов, и в 0 баллов, если ответ не содержит элементов правильного ответа.

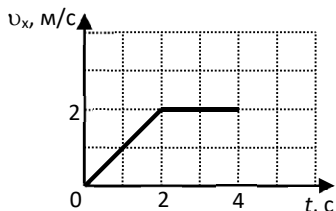
Задание В3 оценивается в 1 балл.

ВАРИАНТ 1

Часть 1

К каждому из заданий А1-А7 даны 4 варианта ответа, из которых только один правильный. Номер этого ответа обведите кружком.

А1.



Тело движется по оси Ox . На графике показана зависимость проекции скорости тела на ось Ox от времени. Каков путь, пройденный телом к моменту времени $t = 4$ с?

- 1) 6 м 2) 8 м 3) 4 м 4) 5 м

А2. На горизонтальном полу стоит ящик массой 10 кг. Коэффициент трения между полом и ящиком равен 0,25. К ящику в горизонтальном направлении прикладывают силу 16 Н. Какова сила трения между ящиком и полом?

Ответ: _____ Н.

А3. Внешние силы совершили над газом работу 300 Дж, при этом внутренняя энергия газа увеличилась на 500 Дж. В этом процессе газ

- 1) отдал количество теплоты 100 Дж 2) получил количество теплоты 200 Дж
 3) отдал количество теплоты 400 Дж 4) получил количество теплоты 400 Дж

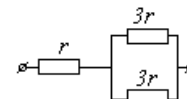
А4. Объём 3 моль водорода в сосуде при температуре 300 К и давлении p_1 равен V_1 . Чему равен объём 3 моль кислорода в сосуде при той же температуре и том же давлении?

- 1) V_1 2) $8V_1$ 3) $24V_1$ 4) $V_1/8$

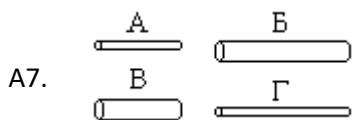
А5. Расстояние между двумя точечными электрическими зарядами увеличили в 2 раза, а один из зарядов уменьшили в 4 раза. Сила электрического взаимодействия между ними

- 1) не изменилась 2) уменьшилась в 4 раза 3) увеличилась в 4 раза 4) уменьшилась в 16 раз

А6. На рисунке показан участок цепи постоянного тока. Каково сопротивление этого участка, если $r = 1$ Ом?



Ответ: _____ Ом.



А7. Чтобы экспериментально проверить, что жесткость упругого стержня зависит от его длины, надо использовать пару стальных стержней

- 1) А и Б 2) Б и В 3) В и Г 4) Б и Г

Часть 2

В заданиях В1-В2 требуется указать последовательность цифр, соответствующих правильному ответу. Эту последовательность следует записать в текст проверочной работы. (Цифры в ответе могут повторяться).

В1. Брусок движется равномерно по горизонтальной поверхности. Установите для силы трения соответствие между параметрами силы, перечисленными в первом столбце таблицы и свойствами вектора силы:

- 1) вертикально вниз
- 2) против направления вектора скорости
- 3) вертикально вверх
- 4) обратно пропорционален площади поверхности бруска
- 5) пропорционален силе нормального давления
- 6) обратно пропорционален силе нормального давления
- 7) пропорционален площади поверхности бруска
- 8) не зависит от площади поверхности бруска

Запишите в таблицу выбранные цифры для каждой физической величины. Цифры в ответе могут повторяться.

Направление вектора	
Модуль вектора	

В2. Камень брошен вертикально вверх. Изменяются ли перечисленные в первом столбце физические величины во время его движения вверх и если изменяются, то как?

Установите соответствие между физическими величинами, перечисленными в первом столбце, и возможными видами их изменений, перечисленными во втором столбце. Влиянием сопротивления воздуха пренебречь.

ФИЗИЧЕСКИЕ ВЕЛИЧИНЫ

- А) скорость
- Б) ускорение
- В) кинетическая энергия
- Г) потенциальная энергия

ИХ ИЗМЕНЕНИЯ

- 1) не изменяется
- 2) увеличивается
- 3) уменьшается

А	Б	В	Г

Ответом к заданию В3 будет некоторое число. Это число надо записать в месте для ответа. Единицы физических величин писать не нужно. Ниже оформите решение задачи.

В3. Вычислите силу тока в цепи при подключении к источнику постоянного тока с ЭДС 6 В и внутренним сопротивлением 1 Ом резистора с электрическим сопротивлением 2 Ом. Ответ запишите числом, выраженным в амперах.

Ответ _____ А